

रोल नं.

Roll No.

--	--	--	--	--	--	--

परीक्षार्थी कोड को उत्तर-पुस्तिका के मुख-पृष्ठ पर अवश्य लिखें ।

Candidates must write the Code on the title page of the answer-book.

- कृपया जाँच कर लें कि इस प्रश्न-पत्र में मुद्रित पृष्ठ **12** हैं ।
- प्रश्न-पत्र में दाहिने हाथ की ओर दिए गए कोड नम्बर को छात्र उत्तर-पुस्तिका के मुख-पृष्ठ पर लिखें ।
- कृपया जाँच कर लें कि इस प्रश्न-पत्र में **35** प्रश्न हैं ।
- कृपया प्रश्न का उत्तर लिखना शुरू करने से पहले, प्रश्न का क्रमांक अवश्य लिखें ।
- इस प्रश्न-पत्र को पढ़ने के लिए 15 मिनट का समय दिया गया है । प्रश्न-पत्र का वितरण पूर्वाह्न में 10.15 बजे किया जाएगा । 10.15 बजे से 10.30 बजे तक छात्र केवल प्रश्न-पत्र को पढ़ेंगे और इस अवधि के दौरान वे उत्तर-पुस्तिका पर कोई उत्तर नहीं लिखेंगे ।
- Please check that this question paper contains **12** printed pages.
- Code number given on the right hand side of the question paper should be written on the title page of the answer-book by the candidate.
- Please check that this question paper contains **35** questions.
- **Please write down the Serial Number of the question before attempting it.**
- 15 minutes time has been allotted to read this question paper. The question paper will be distributed at 10.15 a.m. From 10.15 a.m. to 10.30 a.m., the students will read the question paper only and will not write any answer on the answer-book during this period.

## राजनीति विज्ञान

### POLITICAL SCIENCE

निर्धारित समय : 3 घण्टे

Time allowed : 3 hours

अधिकतम अंक : 100

Maximum Marks : 100

### सामान्य निर्देश :

- (i) सभी प्रश्न अनिवार्य हैं ।
- (ii) प्रश्न संख्या 1 – 10 तक एक अंक के हैं । इन प्रश्नों के उत्तर 20 शब्दों से अधिक नहीं होने चाहिए ।
- (iii) प्रश्न संख्या 11 – 20 तक दो अंकों के हैं । इन प्रश्नों के उत्तर 40 शब्दों से अधिक नहीं होने चाहिए ।
- (iv) प्रश्न संख्या 21 – 30 तक चार अंकों के हैं । इन प्रश्नों के उत्तर 100 शब्दों से अधिक नहीं होने चाहिए ।
- (v) प्रश्न संख्या 31 – 35 तक छः अंकों के हैं । इन प्रश्नों के उत्तर 150 शब्दों से अधिक नहीं होने चाहिए ।
- (vi) प्रश्न संख्या 30 मानचित्र पर आधारित प्रश्न है । इसके उत्तर अपनी उत्तर-पुस्तिका में लिखिए ।

### General Instructions :

- (i) All questions are compulsory.
- (ii) Questions number 1 – 10 are of 1 mark each. The answers to these questions should not exceed 20 words each.
- (iii) Questions number 11 – 20 are of 2 marks each. The answers to these questions should not exceed 40 words each.
- (iv) Questions number 21 – 30 are of 4 marks each. The answers to these questions should not exceed 100 words each.
- (v) Questions number 31 – 35 are of 6 marks each. The answers to these questions should not exceed 150 words each.
- (vi) Question number 30 is a map-based question. Write its answers in your answer-book.


1. 'ऑपरेशन डेज़र्ट स्टॉर्म' ईराक के विरुद्ध क्यों लड़ा गया ? 1  
Why was the 'Operation Desert Storm' fought against Iraq ?
2. 'सार्क' (SAARC) का विस्तृत रूप क्या है ? 1  
What is the full form of 'SAARC' ?
3. संयुक्त राष्ट्र का कोई एक महत्त्वपूर्ण उद्देश्य लिखिए । 1  
State any one important objective of the United Nations.

4. 'निरस्त्रीकरण' से क्या अभिप्राय है ? 1  
What is meant by 'disarmament' ?
5. 1953 के राज्य पुनर्गठन आयोग द्वारा की गई मुख्य सिफारिश का उल्लेख कीजिए । 1  
Mention the main recommendation of the States Reorganization Commission of 1953.
6. भारतीय जन संघ का संस्थापक कौन था ? 1  
Who was the founder of Bharatiya Jana Sangh ?
7. 1971 में लोक सभा के आम चुनावों के पश्चात् सत्ता में आए गठबन्धन में शामिल दो प्रमुख राजनीतिक दल कौन-से थे ?  $2 \times \frac{1}{2} = 1$   
Which two political parties were the major partners in the ruling alliance after the 1971 General Elections to the Lok Sabha ?
8. 1977 में केन्द्र में सत्ता में आई राजनीतिक पार्टी का नाम लिखिए । 1  
Name the political party which came to power at the Centre in 1977.
9. 1980 के दशक में, भारतीय किसान यूनियन की दो मुख्य माँगों का उल्लेख कीजिए ।  $2 \times \frac{1}{2} = 1$   
Mention the two main demands of the Bharatiya Kisan Union in 1980s.
10. 1989 तथा 1996 में, केन्द्र में सरकार बनाने वाले दो गठबन्धनों/मोर्चों के नाम क्रमशः लिखिए ।  $\frac{1}{2} + \frac{1}{2} = 1$   
Name the two alliances/fronts that formed the Government at the Centre in 1989 and 1996 respectively.
11. गुट-निरपेक्ष आन्दोलन के संस्थापक के रूप में पहचाने जाने वाले किन्हीं दो विदेशी नेताओं के नाम तथा उनके देश लिखिए ।  $4 \times \frac{1}{2} = 2$   
Name any two foreign leaders, along with the countries they belonged to, who are recognised as the founders of the Non-aligned Movement.

12. शॉक थेरेपी से क्या अभिप्राय है ? 2  
What is meant of Shock therapy ?
13. यूरोपीय संघ की गठन-प्रक्रिया रेखांकित कीजिए । 2  
Trace the evolution process of the European Union.
14. विश्व बैंक के किन्हीं दो कार्यों का उल्लेख कीजिए । 2×1=2  
Mention any two functions of the World Bank.
15. सुरक्षा की पारम्परिक धारणा के अनुसार किसी देश की सुरक्षा के सामने किन्हीं दो खतरों को उजागर कीजिए । 2×1=2  
Highlight any two threats to a country's security as per the traditional notion of security.
16. 1947 में हुए भारत के विभाजन के किन्हीं दो परिणामों की पहचान कीजिए । 2×1=2  
Identify any two consequences of the partition of India in 1947.
17. विकास के पूँजीवादी और समाजवादी मॉडलों में अंतर स्पष्ट कीजिए । 2  
Differentiate between the capitalist and the socialist models of development.
18. भारत की विदेश नीति में जवाहरलाल नेहरू द्वारा दिए गए योगदान पर प्रकाश डालिए । 2  
Highlight the contribution made by Jawaharlal Nehru to the foreign policy of India.
19. धारा 370 के अन्तर्गत जम्मू और कश्मीर को दिए गए विशेष दर्जे से क्या अभिप्राय है ? 2  
What does the special status given to Jammu and Kashmir under Article 370 mean ?
20. दल-आधारित आंदोलन किस प्रकार राजनीतिक दलों से स्वतंत्र आंदोलन से भिन्न है ? 2  
How does party-based movement differ from non-party movement ?
21. महाशक्तियाँ छोटे देशों को अपने गुट में शामिल करने की आवश्यकता क्यों समझती थीं ? कोई चार कारण स्पष्ट कीजिए । 4×1=4  
Why did the superpowers need smaller states as their allies ? Explain any four reasons.


22. नीचे दिए गए कार्टून का ध्यानपूर्वक अध्ययन कीजिए तथा निम्नलिखित लिखिए :

1+1+2=4




- (i) दिया गया कार्टून किस देश से संबंधित है ?
- (ii) कार्टून में दर्शाए गए कौन-से दो प्रतीक, संबंधित देश की पहचान करने में सहायक हुए ?
- (iii) यह कार्टून विश्व को क्या संदेश देता है ?

Study the cartoon given below carefully and answer the following questions :



- (i) The given cartoon is related to which country ?
- (ii) Which two symbols in this cartoon helped in identifying the country ?
- (iii) What message does this cartoon convey to the world ?

नोट : निम्नलिखित प्रश्न केवल दृष्टिहीन परीक्षार्थियों के लिए, प्रश्न संख्या 22 के स्थान पर।  CBSEguide.com  
A Complete guide for CBSE students

**Note :** The following questions are for the **BLIND CANDIDATES** only, in lieu of Question No. 22.

निम्नलिखित प्रश्नों के उत्तर लिखिए :

1+1+2=4

- (i) पश्चिमी साम्राज्यवाद के उदय से पहले एशिया के कौन-से दो देश महान् शक्तियाँ थीं ?
- (ii) परमाणु बमों की विभीषिका झेलने वाले इकलौते देश का नाम लिखिए ।
- (iii) आसियान (ASEAN) का विस्तृत रूप लिखिए । इसकी स्थापना कब हुई थी ?

Answer the following questions :

- (i) Which two countries of Asia were great powers before the advent of western imperialism ?
- (ii) Name the only nation that suffered the destruction caused by nuclear bombs.
- (iii) Write the full form of ASEAN. When was it established ?

23. संरचनात्मक शक्ति के रूप में संयुक्त राज्य अमरीका के वर्चस्व की व्याख्या कीजिए । 4  
Explain the hegemony of the United States of America as a structural power.

24. श्री लंका में जातीय संघर्ष के कोई चार कारण स्पष्ट कीजिए । 4×1=4  
Explain any four causes of ethnic conflict in Sri Lanka.

25. भारत की सुरक्षा रणनीति के किन्हीं चार घटकों की व्याख्या कीजिए । 4×1=4  
Explain any four components of India's security strategy.

26. वैश्वीकरण का क्या अर्थ है ? वैश्वीकरण के किन्हीं तीन कारणों को उजागर कीजिए । 1+3=4  
What is globalization ? Highlight any three causes of globalization.

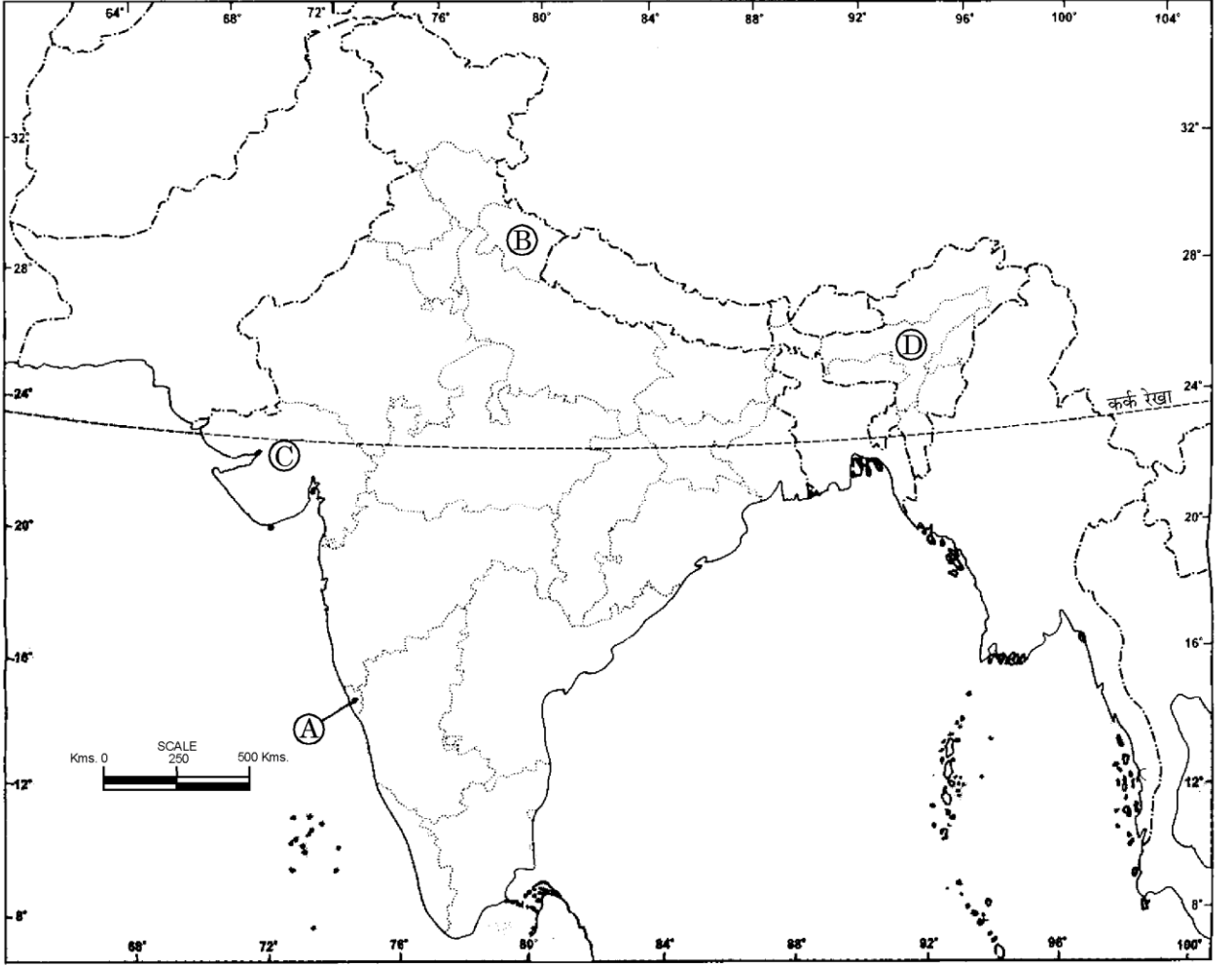
27. काँग्रेस पार्टी के संगठन का एक सामाजिक और विचारधारात्मक गठबंधन के रूप में वर्णन कीजिए । 4  
Describe the organization of the Congress Party as a social and ideological coalition.

28. भारत की परमाणु नीति की व्याख्या कीजिए । 4  
Explain India's nuclear policy.

29. 1975 में आपातकाल की घोषणा के परिणामों का मूल्यांकन कीजिए । 4  
Evaluate the consequences of declaration of emergency in 1975.

30. दिए गए भारत के राजनीतिक मानचित्र में, चार स्थानों को (A), (B), (C) और (D) द्वारा अंकित किया गया है। नीचे दी गई जानकारी के आधार पर इन स्थानों की पहचान कर उनके सही नाम उत्तर-पुस्तिका में उनकी क्रम संख्या तथा सम्बन्धित अक्षर सहित लिखिए :  $4 \times 1 = 4$

**भारत – राजनीतिक और पड़ोसी देश**



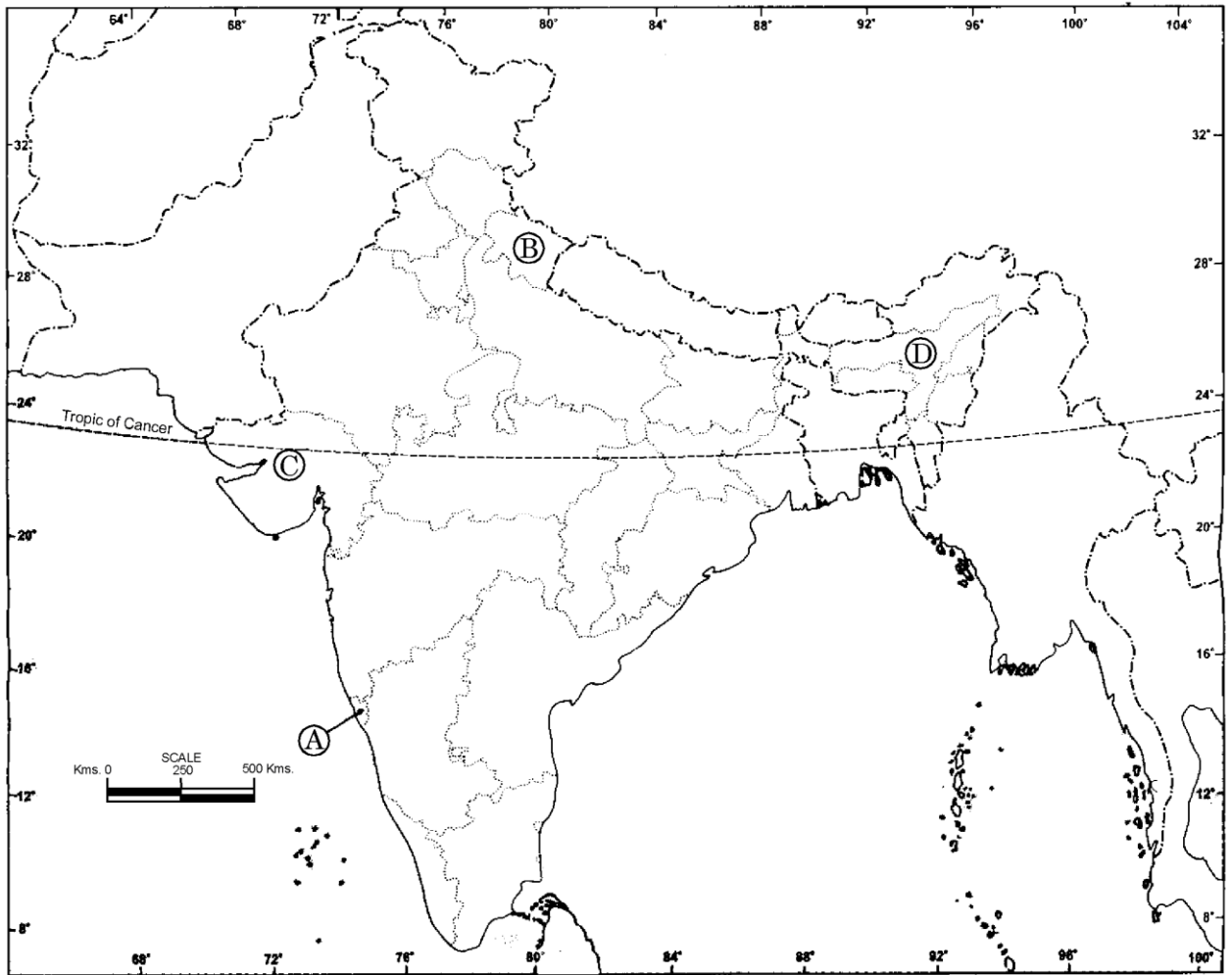
geetaenterprises70@yahoo.in

© Government of India Copyright, 2004.

- (i) चिपको आन्दोलन से संबद्ध राज्य ।
- (ii) ऐसा राज्य जहाँ विशेष जनमत सर्वेक्षण के माध्यम से लोगों से पूछा गया कि वे महाराष्ट्र में शामिल होना चाहते हैं या अलग बने रहना चाहते हैं ।
- (iii) वह राज्य जिसमें से मेघालय, मिज़ोरम और अरुणाचल प्रदेश बनाए गए ।
- (iv) नर्मदा सागर परियोजना से संबद्ध राज्य ।

In the given political map of **India**, four places are marked as (A), (B), (C) and (D). Identify them with the help of information given below and write their correct names in the answer-book along with their serial numbers and the alphabets concerned :

### INDIA – POLITICAL AND ADJACENT COUNTRIES




geetaenterprises70@yahoo.in

© Government of India Copyright, 2004.

- (i) The State related to Chipko Movement.
- (ii) The State where a special opinion poll was held asking people to decide if they wanted to merge with Maharashtra or remain separate.
- (iii) The State out of which the States of Meghalaya, Mizoram and Arunachal Pradesh were created.
- (iv) The State related to Narmada Sagar Project.



नोट : निम्नलिखित प्रश्न केवल दृष्टिहीन परीक्षार्थियों के लिए, प्रश्न संख्या 30 के स्थान पर।  CBSEguide.com  
A Complete guide for CBSE students

**Note :** The following questions are for the **BLIND CANDIDATES** only, in lieu of Question No. 30.

निम्नलिखित प्रश्नों के उत्तर लिखिए :

4×1=4

- (i) उस राज्य का नाम लिखिए जहाँ अक्टूबर, 1992 में ताड़ी-विरोधी आंदोलन शुरू हुआ ।
- (ii) 1975 में भारतीय संघ में विलय होने वाले भारत के 22वें राज्य का नाम लिखिए ।
- (iii) 1960 में विभाजन से पूर्व, बम्बई प्रांत में कौन-सी दो भाषाएँ बोली जाती थीं ?
- (iv) नर्मदा सागर परियोजना से संबद्ध राज्य कौन-सा है ?

Answer the following questions :

- (i) Name the State where Anti-arrack Movement started in October, 1992.
- (ii) Name the 22<sup>nd</sup> State of India which merged with the Indian Union in 1975.
- (iii) Which two languages were spoken in the Bombay State before it was divided in 1960 ?
- (iv) Which State is related to Narmada Sagar Project ?

31. सोवियत संघ के विघटन के किन्हीं छः परिणामों का परीक्षण कीजिए ।

6×1=6

अथवा

‘गुट-निरपेक्ष आंदोलन अब अप्रासंगिक हो गया है ।’ क्या आप इस कथन से सहमत हैं ?


किन्हीं तीन उपयुक्त तर्कों द्वारा अपने उत्तर की पुष्टि कीजिए ।

3×2=6

Examine any six consequences of the disintegration of USSR.

**OR**

‘Non-aligned Movement (NAM) has become irrelevant today.’ Do you agree with the statement ? Support your answer with any three suitable arguments.

32. पर्यावरण के किन्हीं तीन मुद्दों पर, भारत के पक्ष का विश्लेषण कीजिए  3×2=6

**अथवा**

भारत में वैश्वीकरण का प्रतिरोध करने के किन्हीं तीन आधारों का आकलन कीजिए । 3×2=6

Analyse India's stand on any three environmental issues.

**OR**

Assess any three basis on which globalization is being resisted in India.

33. भारत के प्रथम तीन आम चुनावों में, काँग्रेस पार्टी के प्रभुत्व के किन्हीं तीन कारणों को स्पष्ट कीजिए । 3×2=6

**अथवा**

स्वतंत्रता के पश्चात्, भारत में राज्यों का पुनर्गठन कैसे हुआ ? व्याख्या कीजिए । 6

Explain any three reasons for the dominance of Congress Party in the first three general elections in India.

**OR**

How did the reorganization of States take place in India after its independence ? Explain.

34. 1975 में भारत में आपातकाल लगाए जाने के किन्हीं छः कारणों का परीक्षण कीजिए । 6×1=6

**अथवा**

1969 में काँग्रेस पार्टी के विभाजन के लिए उत्तरदायी मुख्य मुद्दों का परीक्षण कीजिए । 6

Examine any six reasons for the imposition of emergency in India in 1975.

**OR**

Examine the major issues which led to the split of Congress Party in 1969.

सरदार सरोवर परियोजना एक बहु-उद्देशीय विशाल बाँध है। बाँध के निर्माण से लगभग ढाई लाख ग्रामीण लोगों के लिए पुनर्वास की आवश्यकता थी। परियोजना से प्रभावित लोगों के उचित विस्थापन और पुनर्वास के मुद्दों को स्थानीय कार्यकर्ता समूहों ने उठाया। 1988 – 89 के लगभग इन गतिविधियों (मुद्दों) को एक आन्दोलन की शकल एन.बी.ए. के अन्तर्गत मिली, जो एक स्थानीय स्वयंसेवी संगठनों का समूह है।

**प्रश्न :**

- (i) सरदार सरोवर परियोजना को बहु-उद्देशीय विशाल बाँध क्यों कहा गया ?
- (ii) ग्रामीणों द्वारा इसका विरोध क्यों किया गया ?
- (iii) इस परियोजना के विरुद्ध आन्दोलन चलाने वाले संगठनों का नाम लिखिए।
- (iv) स्थानीय कार्यकर्ता समूहों की मुख्य माँग क्या थी ?

**अथवा**

निम्नलिखित अवतरण को पढ़िए और उसके नीचे लिखे प्रश्नों के उत्तर दीजिए :  $1+2+1+2=6$

भारत ने विविधता के प्रश्न पर लोकतान्त्रिक दृष्टिकोण अपनाया। लोकतंत्र में क्षेत्रीय आकांक्षाओं की राजनीतिक अभिव्यक्ति की अनुमति है और लोकतंत्र क्षेत्रीयता को राष्ट्र-विरोधी नहीं मानता। इसके अतिरिक्त, लोकतांत्रिक राजनीति में, विभिन्न दलों और समूहों को क्षेत्रीय पहचान, आकांक्षाओं अथवा विशिष्ट क्षेत्रीय समस्याओं को उनका आधार बनाकर जनभावनाओं की नुमाइंदगी करने की छूट होती है।

**प्रश्न :**

- (i) भारत में किस प्रकार की विविधता विद्यमान है ?
- (ii) क्षेत्रीय पहचान का प्रतिनिधित्व करने वाले किन्हीं दो राजनीतिक दलों के नाम लिखिए।
- (iii) क्षेत्रीय आकांक्षाओं की अभिव्यक्ति करने वाले किसी एक आन्दोलन का उल्लेख कीजिए।
- (iv) लोकतन्त्र में क्षेत्रीय मुद्दों और समस्याओं का समाधान किस प्रकार किया जाता है ?

Study the passage given below and answer the questions that follow:

Sardar Sarovar Project is a multipurpose mega-scale dam. It required relocation of around two and a half lakh people from the villages. Issues of relocation and proper rehabilitation of the project-affected people were first raised by the local activist groups. It was around 1988 – 89 that the issues crystallised under the banner of the NBA — a loose collective of local voluntary organizations.

**Questions :**

- (i) Why is the Sardar Sarovar Project mentioned as multipurpose mega-scale dam ?
- (ii) Why was it opposed by the villagers ?
- (iii) Name the organizations which led the movement against this project.
- (iv) What was the main demand of the local activist groups ?

**OR**

Study the passage given below and answer the questions that follow :

India adopted a democratic approach to the question of diversity. Democracy allows the political expressions of regional aspirations and does not look upon them as anti-national. Besides, democratic politics allows parties and groups to address the people on the basis of their regional identity, aspirations and specific regional problems.

**Questions :**

- (i) Which type of diversity exists in India ?
- (ii) Name any two political parties that represent regional identity.
- (iii) Mention any one movement that expresses regional aspirations.
- (iv) How does democracy treat the regional issues and problems ?